

ÎNTREBĂRI ȘI TESTE

PENTRU EXAMENUL DE CONDUCERE AUTO

CURS

de legislație rutieră

2023

Valentin Constantin Marin

Ediție revizuită și adăugită

Conține modificările aduse de:

Legea 302/2022 intrate în vigoare la data de 20 noiembrie 2022,

Legea 335/2022 intrate în vigoare la data de 11 decembrie 2022,

Legea 383/2022 intrate în vigoare la data de 2 ianuarie 2023,

Legea 1/2023 intrate în vigoare la data de 6 ianuarie 2023.

CAPITOLUL I

Teste

A. Legislație rutieră

I. Indicatoarele

1. Ce semnifică indicatorul?



- a. drum aglomerat;
- b. interval minim obligatoriu față de autovehiculul precedent;
- c. distanță obligatorie de oprire pentru autovehicule.

2. Dacă semnalul verde este însoțit de un indicator „Înainte sau la dreapta”, conducătorului de vehicul îi este permis să circule:

- a. în toate direcțiile, deoarece semnalele luminoase primează asupra semnalizării rutiere;
- b. numai la stânga, pentru că indicatorul interzice deplasarea în alte direcții;
- c. numai înainte sau la dreapta.

3. Ce semnifică indicatorul?



- a. interzice circulația în ambele sensuri a motocicletelor și mopedelor;
- b. interzice circulația în ambele sensuri a autovehiculelor;
- c. interzice circulația în ambele sensuri a tuturor vehiculelor.

4. Care dintre indicatoare anunță sfârșitul drumului cu prioritate?



1



2

- a. ambele;
- b. indicatorul 1;
- c. niciunul.

5. Indicatorul vă interzice depășirea:



- a. nu;
- b. da;
- c. indicatorul nu se adresează autovehiculelor categoria B.

6. Cum veți proceda la întâlnirea indicatorului de mai jos?



300 m

- a. reduceți viteza, vă asigurați și cedați trecerea tuturor vehiculelor care circulă pe o distanță de 300 m;
- b. circulați cu atenție, pentru a putea opri în condiții de siguranță, în maximum 300 m;
- c. circulați cu atenție, deoarece urmează o intersecție cu cedarea trecerii la 300 m.

7. Ce indicator urmează să fie întâlnit în intersecția aflată la 300 m de indicatorul 1?



300 m

1



2



3

- a. indicatorul 3;
- b. indicatorul 2;
- c. oricare dintre cele două indicatoare.

8. Indicatorul vă avertizează că urmează:



- a. un segment de drum pe care se execută lucrări de amenajări rutiere;
- b. o denivelare pentru limitarea vitezei;
- c. un drum cu denivelări.

9. Conduceți un autovehicul din categoria B. La întâlnirea indicatorului însoțit de panoul adițional aveți obligația:



- a. să acordați prioritate vehiculelor care circulă din sens opus;
- b. să vă deplasați cu atenție pe sectorul de drum îngustat;
- c. să acordați prioritate numai autocamionelor și autobuzelor care circulă din sens opus.

10. Ce obligații aveți la întâlnirea indicatorului „Bicicliști”?

- a. să reduceți viteza la maximum 30 km/h în localități și 50 km/h în afara localităților;
- b. nu aveți nicio obligație, bicicliștii vă vor acorda prioritate;
- c. să circulați cu atenție și, dacă este cazul, acordați prioritate de trecere bicicliștilor care circulă pe pista special destinată.

11. Ce obligații aveți dacă întâlniți într-o intersecție indicatorul „Înainte sau la stânga” și semaforul se află pe culoarea verde?

- a. circulați înainte sau la stânga;
- b. circulați numai înainte;
- c. circulați în orice direcție deoarece semnalul verde vă permite acest lucru.

12. La întâlnirea indicatorului „Copii” într-o localitate aveți obligația:

- a. să acordați prioritate de trecere bicicliștilor;
- b. să ocoliți locurile de joacă pentru copii;

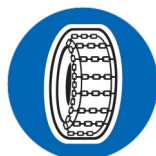
c. să nu depășiți viteza de 30 km/h între orele 07.00 și 22.00.

13. Indicatorul de mai jos semnifică:



- a. sfârșitul interzicerii de a depăși;
- b. circulație în ambele sensuri;
- c. sfârșitul zonei cu viteză recomandată.

14. Unde se întâlnește acest indicator?



- a. în zonele de deal și de munte;
- b. la începutul sectoarelor de drum acoperite de zăpadă, gheață sau polei;
- c. pe toate drumurile lunecoase.

15. Care este semnificația indicatorului?



- a. „Limitare de viteză”;
- b. „Viteză minimă obligatorie”;
- c. „Viteză maximă obligatorie”.

16. Cum procedați la întâlnirea indicatorului?



- a. se recomandă să măriți atenția;
- b. opriți;

c. accelerați, pentru a nu fi surprins de căderea pietrelor.

17. Interdicția impusă de indicatorul din imagine se adresează:



- a. tuturor autovehiculelor, cu excepția motocicletelor fără ataș;
- b. autoturismelor și motocicletelor;
- c. tuturor vehiculelor.

18. Indicatorul vă avertizează că urmează:



300 m

- a. o coborâre periculoasă, care începe la o distanță de 300 m de la indicator;
- b. o coborâre periculoasă, pe o distanță de 300 m;
- c. o succesiune de curbe periculoase, la o distanță de 300 m de la indicator.

19. Care este semnificația indicatorului?



- a. obligă la folosirea benzii de lângă trotuar;
- b. obligă la schimbarea direcției de mers către dreapta;
- c. obligă la ocolirea prin dreapta a locului unde este instalat.

20. La întâlnirea indicatorului, sunteți obligat:



- a. să virați la dreapta până la indicator;
- b. să virați la dreapta, deoarece urmează un sector de drum îngustat;
- c. să ocoliți scuarul pe care este instalat indicatorul.

21. Indicatorul nu permite schimbarea direcției de mers spre stânga:



- a. în intersecția înaintea căreia este instalat;
- b. în toate intersecțiile, până la apariția indicatorului „Sfârșitul tuturor restricțiilor”;
- c. la 200 m de la locul în care este instalat acesta.

22. Indicatorul alăturat semnifică:



- a. pistă comună pentru pietoni și bicicliști;
- b. accesul interzis pietonilor și bicicliștilor;
- c. drum închis circulației publice.

23. Indicatorul semnifică:



- a. reducerea numărului benzilor de circulație;
- b. îngustare temporară a drumului;
- c. terminarea benzii de circulație din stânga părții carosabile.

24. Indicatorul semnifică:



- a. denivelare față de banda alăturată;
- b. parcare se face cu o roată pe trotuar și cu una pe partea carosabilă;
- c. parcare este interzisă atât pe partea carosabilă, cât și pe trotuar.

25. Ce obligație aveți dacă întâlniți într-o intersecție indicatorul „Înainte sau la stânga” și semaforul se află pe culoarea verde?

- a. circulați înainte sau la stânga;
- b. circulați numai la dreapta;
- c. circulați în orice direcție, deoarece semaful verde vă permite acest lucru.

26. Indicatorul semnifică:



- a. reducerea unei benzi de circulație;

- b.** organizarea traficului pe benzi de circulație;
- c.** circulația autovehiculelor de mare tonaj interzisă.

27. Ce semnifică indicatorul alăturat?



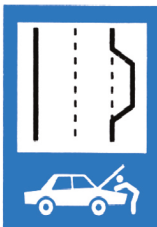
- a.** permisiunea de a încălca marcajul cu linie discontinuă;
- b.** distanța de siguranță dintre vehicule, pentru viteze mai mari de 60 km/h;
- c.** un drum cu circulație redusă.

28. Ce semnifică indicatorul?



- a.** interval maxim obligatoriu față de autovehiculul precedent;
- b.** interval minim obligatoriu față de autovehiculul precedent;
- c.** circulație intensă.

29. Indicatorul rutier alăturat semnifică:



- a.** refugiu rezervat deparării;


- b.** refugiu pentru staționarea de urgență;
- c.** bandă de parcare.

30. Indicatorul semnifică:



- a.** presemnalizarea traseului de urmat în vederea efectuării virajului la stânga;
- b.** ocolirea intersecției;
- c.** interzicerea virajului la stânga pentru camioane.

31. Indicatorul semnifică:



- a.** sfârșitul interdicției de a depăși;
- b.** sfârșitul tuturor restricțiilor;
- c.** interzicerea depășirii autovehiculelor, cu excepția motocicletelor fără ataș.

32. Indicatorul permite accesul:



- a.** vehiculelor fără motor;
- b.** mopederelor și motocicletelor;
- c.** autovehiculelor.

33. Ce semnifică indicatorul împreună cu panoul adițional?



- a. sfârșitul zonei de acțiune a indicatorului „Staționarea interzisă”;
- b. sfârșitul zonei de acțiune a indicatorului „Oprirea interzisă”;
- c. începutul zonei în care este interzisă oprirea.

34. Care dintre conducătorii de vehicule, ce se apropie simultan de o intersecție, are prioritate de trecere, în situația în care unul întâlnește indicatorul „Oprire”, iar celălalt indicatorul „Cedează trecerea”?

- a. conducătorul care întâlnește indicatorul „Cedează trecerea”;
- b. conducătorul care circulă din dreapta;
- c. conducătorul care întâlnește indicatorul „Oprire”.

35. Care dintre indicatoare obligă la schimbarea direcției de mers pe prima stradă la dreapta?



1



2

- a. indicatorul 1;
- b. indicatorul 2;
- c. ambele indicatoare.

36. În care dintre următoarele situații conducătorilor de vehicule le este interzis să execute virajul spre stânga la lumina de culoare verde a semaforului electric?

- a. când întâlnesc indicatorul „Înainte sau la stânga”;
- b. când se află pe o stradă cu sens unic;
- c. când întâlnesc indicatorul „Înainte sau la dreapta”.

37. Indicatorul rutier alăturat semnifică:



- a. refugiu pentru verificarea nivelului uleiului;
- b. refugiu rezervat depanării;
- c. stație de autobuz.

38. Indicatorul semnifică:



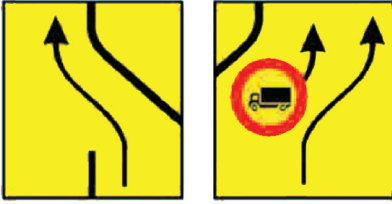
- a. „Viteză minimă obligatorie”;
- b. „Sfârșitul limitării de viteză”;
- c. „Sfârșitul vitezei minime obligatorii”.

39. Indicatorul semnifică:



- a. „Aeroport”;
- b. „Drum aglomerat”;
- c. „Vânt lateral”.

40. Care dintre indicatoarele alăturate te obligă să execuți virajul la stânga?



1

2

- a. indicatorul 1;
- b. indicatorul 2;
- c. niciunul.

41. Care dintre indicatoarele alăturate creează obligații pentru conducătorii de vehicule?




1

2

- a. indicatorul nr. 1;
- b. indicatorul nr. 2;
- c. ambele indicatoare.

42. Sfârșitul zonei în care oprirea a fost interzisă este anunțată de:



1

2

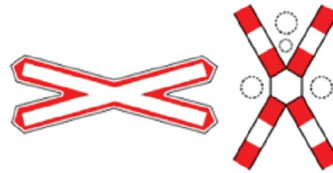
- a. ambele indicatoare;
- b. indicatorul 1;
- c. indicatorul 2, însoțit de panoul adițional.

43. Care este semnificația indicatorului și a panoului adițional alăturat?



- a. se interzice staționarea vehiculelor, în zilele impare (fără soț), între orele menționate;
- b. se permite staționarea vehiculelor, în zilele impare (fără soț), între orele menționate;
- c. se permite staționarea vehiculelor în afara orelor menționate.

44. Care dintre cele două indicatoare te obligă să oprești?



1

2

- a. indicatorul 1;
- b. indicatorul 2;
- c. ambele indicatoare.

45. Care dintre indicatoare te avertizează că urmează să intersecțezi un drum fără prioritate?



1

2

- a. ambele;
- b. indicatorul 1;
- c. indicatorul 2;

46. Ce semnificație are indicatorul din imagine?



- a. trecere cu bacul peste o apă;
- b. drum denivelat;
- c. accesul interzis vehiculelor care transportă substanțe de natură să polueze apele.

II. Marcajele

47. Care este rolul marcajelor rezonatoare?

- a. dublează marcajele convenționale în zonele periculoase;
- b. avertizează conducătorii de autovehicule că depășesc zona de carosabil marcată și destinată sensului de deplasare;
- c. avertizează conducătorii de autovehicule că vor pătrunde într-o zonă supravegheată cu aparatură radar.

48. Trecerea peste marcajul discontinuu este permisă:

- a. în orice situație, acesta având un caracter orientativ;
- b. atunci când un asemenea marcaj nu delimitează cele două sensuri de circulație;
- c. la schimbarea direcției de mers, a benzii de circulație sau la depășire.

49. Marcajul longitudinal continuu, aplicat pe axul drumului, permite încălcarea lui:

- a. nu, în nicio situație;
- b. numai de către conducătorii de motociclete și moped;
- c. numai de către vehiculele cu gabarit depășit.

50. Care dintre autovehicule trebuie să acorde prioritate pietonului?



- a. autoturismul albastru;
- b. ambele autovehicule;
- c. autoturismul negru.

51. Ce semnificație are marcajul longitudinal continuu de separare a sensurilor de circulație?

- a. orientează conducătorii de vehicule în condiții de vizibilitate redusă;
- b. interzice încălcarea acestuia;
- c. interzice depășirea pe sectorul pe care este aplicat.

52. Cum procedați dacă v-ați încadrat pe banda din stânga, care are aplicat un marcaj ce reprezintă o săgeată la stânga, deși intenționați să virați la dreapta?

- a. semnalizați, claxonați și virați la dreapta;
- b. virați la stânga;
- c. întrucât din sens opus nu circulă alte vehicule, virați accelerat la dreapta.

53. Ce obligații vă revin la trecerile pentru pietoni?

- a. să circulați cu viteză redusă, pentru a putea ocoli pietonii angajați în traversare;
- b. să reduceți viteza, dacă sunt pietoni angajați în traversare, pentru evitarea unui posibil accident;
- c. dacă sunt pietoni angajați în traversare pe sensul dv. de mers, să le acordați prioritate.


54. Marcajul format dintr-o linie continuă de culoare galbenă aplicată pe bordura trotuarului sau la marginea părții carosabile are următoarea semnificație:

- a. interzice staționarea vehiculelor pe acea parte a drumului;
- b. are rol de ghidaj pentru a se evita părăsirea accidentală a carosabilului;
- c. interzice oprirea vehiculelor pe acea parte a drumului.

55. Marcajul transversal constând dintr-o linie continuă, aplicată pe lățimea uneia sau mai multor benzi:

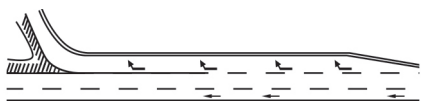
- a. indică locul de traversare pentru biciclete;
- b. indică linia înaintea căreia vehiculul trebuie oprit la întâlnirea indicatorului „Cedează trecerea”;
- c. indică linia înaintea căreia vehiculul trebuie oprit la întâlnirea indicatorului „Oprire”.

56. Marcajele prezentate mai jos au semnificația:



- a. loc de parcare pentru vehiculele cu masa de maximum 3,5 t;
- b. spații interzise circulației;
- c. spațiu destinat pietonilor.

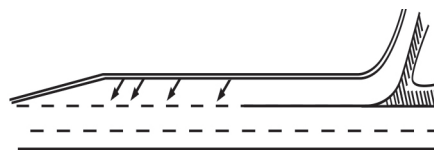
57. Ce semnificație are un astfel de marcaj rutier?



- a. marcaj pe o bandă de decelerare;

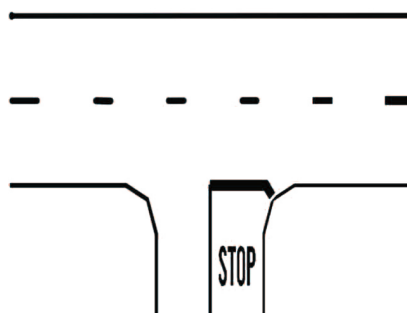
- b. deviere temporară a circulației;
- c. marcaj pentru spații interzise.

58. Ce semnificație are un astfel de marcaj rutier?



- a. deviere temporară a circulației;
- b. marcaj pe o bandă de accelerare;
- c. marcaj pentru spații interzise.

59. Ce semnificație are marcajul rutier din imagine?

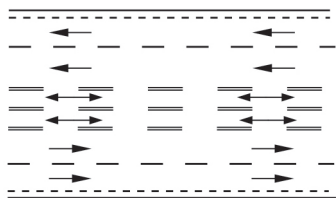


- a. bandă de circulație destinată opririi voluntare;
- b. spațiu pentru oprirea în caz de urgență;
- c. marcaj transversal de oprire.

60. Este permisă trecerea peste marcajul longitudinal format dintr-o linie continuă și alta discontinuă?

- a. da, dacă marcajul nu este într-o curbă;
- b. da, dacă linia discontinuă este cea mai apropiată de vehicul în direcția de mers;
- c. nu.

61. Ce semnificație are marcajul rutier alăturat?

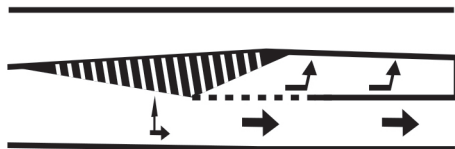


- a. marcaj pentru benzi cu circulație reversibilă;
- b. marcaj pentru drumuri publice aglomerate;
- c. marcaj cu elemente rezonatoare.

62. Este interzisă staționarea în dreptul marcajului longitudinal continuu, aplicat între sensurile de circulație?

- a. nu;
- b. da, atunci când conducătorii celorlalte vehicule ar fi obligați astfel să treacă peste marcajul respectiv;
- c. legal, nu este prevăzut.

63. Ce semnifică marcajul?



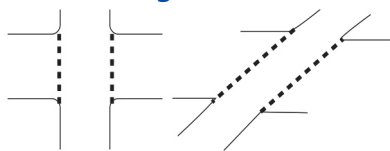
- a. obligatoriu la stânga;
- b. marcajul benzii de stocaj pentru virajul la stânga;
- c. spațiu pentru întoarcere.

64. Ce semnificație are marcajul rutier alăturat?



- a. interzicerea staționării;
- b. stație mijloace de transport în comun;
- c. parcare.

65. Ce semnificație are marcajul rutier din imagine?



- a. marcaj de traversare pentru biciclete;
- b. marcaj de traversare pentru pietoni;
- c. marcaj de ghidare pentru vehicule.

66. Marcajul format dintr-o linie continuă galbenă aplicată pe bordura trotuarului sau la marginea părții carosabile:

- a. interzice staționarea vehiculelor pe acea parte a drumului;
- b. delimitează partea carosabilă;
- c. ghidează vehiculele.

III. Manevrelor

67. Se interzice întoarcerea vehiculului:

- a. pe marcajul pietonal;
- b. la o distanță mai mică de 50 m de marcajul pietonal;
- c. în intersecții, inclusiv în cele cu sens giratoriu.

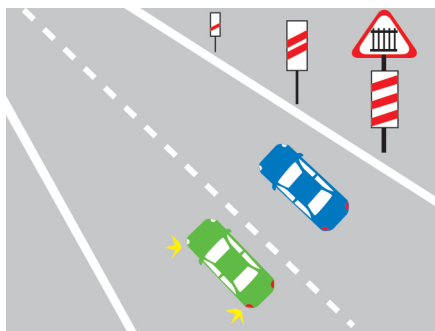
68. Oprirea voluntară a unui vehicul este interzisă:

- a. în zona de acțiune a indicatorului „Staționarea interzisă”
- b. în curbe și în alte locuri unde vizibilitatea este redusă sub 100 m;
- c. în intersecții cu sens giratoriu.

69. Poate staționa noaptea, pe un drum public, remorca unui autoturism?

- a. nu;
- b. da, dacă drumul este iluminat;
- c. da, dacă aceasta este semnalizată cu triunghiuri reflectorizante.

70. Puteți depăși în următoarea situație?



- a. nu, deoarece vă aflați în zona unei treceri la nivel cu calea ferată;
- b. nu, deoarece vă aflați la mai puțin de 150 m de calea ferată;
- c. da, este regulamentară.

71. Ce manevre sunt interzise pe autostradă?

- a. oprirea și efectuarea unei pene de cauciuc;
- b. învățarea conducerii unui autovehicul;
- c. încercarea prototipurilor de șasiuri și de vehicule cu motor.

72. Puteți depăși tramvaiul oprit în stație?



- a. nu, deoarece tramvaiul se depășește prin partea stângă;
- b. nu, deoarece în stație nu există refugiu pentru pietoni;
- c. da, deoarece între șina de tramvai și trotuar există spațiu suficient pentru depășire.

73. În situația dată vă este interzis:



- a. să continuați deplasarea;
- b. să opriți;
- c. să ocoliți un obstacol prin stânga.

74. Puteți depăși mai multe vehicule în situația de față?



- a. da;
- b. nu;
- c. numai dacă sunt peste două benzi de circulație.

75. Este permisă oprirea voluntară a unui vehicul pe trotuar?

- a. nu;
- b. da, dacă administratorul drumului public a executat amenajări corespunzătoare;
- c. legal nu este prevăzut.

76. La depășirea unei biciclete de către un autovehicul care circulă cu 45 km/h, conducătorul autovehiculului este obligat să:

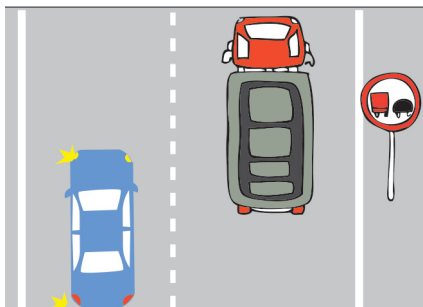
- a. realizeze manevra cel puțin prin încălcarea marcajelor longitudinale de separare a sensurilor de circulație ori de separare a benzilor pe același sens;

- b.** realizeze manevra fără încălcarea marcajelor longitudinale de separare a sensurilor de circulație ori de separare a benzilor pe același sens;
- c.** realizeze manevra prin trecerea peste marcajul longitudinal de separare a sensurilor de circulație ori de separare a benzilor pe același sens, cu cel puțin două treimi din lățimea autovehiculului.

77. Este interzisă staționarea pe un drum public prevăzut cu marcaj longitudinal continuu aplicat între sensurile de circulație?

- a.** nu există prevedere legală;
- b.** nu, dacă nu obligă celelalte vehicule să treacă peste marcajul continuu;
- c.** da, deoarece este interzis prin lege.

78. Puteți efectua depășirea camionului?



- a.** da, deoarece interzicerea depășirii se referă numai la autovehiculele destinate transportului de marfă;
- b.** nu, deoarece indicatorul interzice depășirea autovehiculelor;
- c.** nu, deoarece nu aveți vizibilitate suficientă.

79. Întoarcerea unui autovehicul pe un drum public presupune, înainte de efectuarea manevrei:

- a.** oprirea și semnalizarea intenției de a întoarce;

- b.** asigurarea și încadrarea pe banda de lângă axul drumului;
- c.** semnalizarea și asigurarea din față, din spate și din lateral.

80. În ce situație este interzisă întoarcerea?

- a.** când vizibilitatea este redusă sub 100 m;
- b.** în locurile unde soliditatea drumului nu permite;
- c.** în apropierea stațiilor de tramvai.

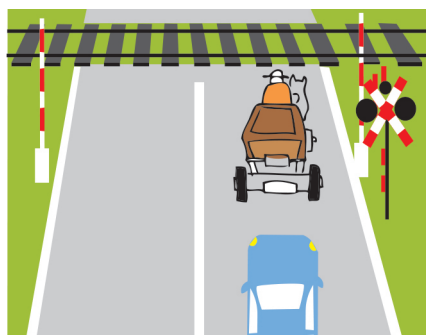
81. În care dintre situații este interzisă staționarea voluntară a vehiculelor?

- a.** în zona rezidențială semnalizată corespunzător;
- b.** în dreptul căilor de acces care deservesc proprietățile alăturate drumurilor publice;
- c.** pe drumurile județene.

82. Este corectă manevra de devansare pe autostradă a unui vehicul pe banda din dreapta celei pe care circulă acesta?

- a.** nu;
- b.** da, dar numai dacă se folosesc semnalele de atenționare luminoase și sonore;
- c.** da.

83. Puteți efectua depășirea în situația dată?



- a. da, dacă v-ați asigurat din stânga sau din dreapta că nu se apropie niciun tren;
- b. da, deoarece căruța se deplasează cu o viteză foarte mică;
- c. nu.

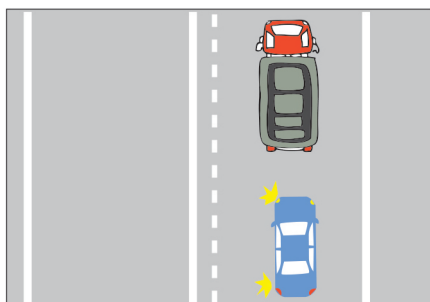
84. În care din situații este interzisă oprirea?

- a. la o distanță mai mică de 25 m înainte și după indicatorul de stație pentru mijloacele de transport public de persoane;
- b. la o distanță mai mică de 25 m de colțul intersecției;
- c. la o distanță mai mică de 5 m în spatele ultimului vagon de tramvai oprit într-o stație fără refugiu pentru pietoni.

85. În care din situații oprirea este interzisă?

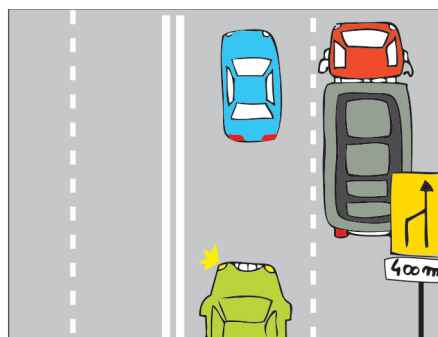
- a. pe străzile cu sens unic;
- b. în intersecțiile cu sens giratoriu;
- c. în dreptul indicatorului „Parcarea interzisă”.

86. Puteți depăși în situația dată?



- a. nu, deoarece vizibilitatea este redusă;
- b. da, dacă vă asigurați că manevra poate fi executată și semnalizați corespunzător;
- c. nu, deoarece se trece peste axul drumului.

87. Puteți executa depășirea camionului în această situație?



- a. nu, deoarece urmează un drum în lucru;
- b. nu, deoarece drumul se îngustează;
- c. da, legea nu interzice.

88. Este permisă întoarcerea pe autostradă?

- a. nu;
- b. da;
- c. da, dacă sensul de mers este blocat.

89. Întoarcerea este interzisă:

- a. pe poduri și sub pasaje denivelate;
- b. pe drumurile naționale;
- c. la mai puțin de 50 m de intrarea în sediile instituțiilor.

90. Întoarcerea este interzisă:

- a. pe străzile cu sens unic;
- b. în intersecții și la mai puțin de 50 m de cel mai apropiat colț al intersecției;
- c. la mai puțin de 100 m de o trecere la nivel cu calea ferată.

91. Întoarcerea este interzisă:

- a. în rampă, dacă vizibilitatea este sub 50 m;
- b. în dreptul unui garaj;
- c. la trecerile pentru pietoni.

92. Întoarcerea autovehiculului este interzisă:

- a. pe drumurile cu sens unic;
- b. în locurile în care soliditatea drumului nu permite;
- c. pe marcajul pietonal.