


Dragii mei,




Jocul este unul dintre cei mai buni prieteni ai omului, încă din fragedă copilărie. El oferă vioiciune, istețime și dorință de cunoaștere. Jocul dezvoltă mintea, o antrenează și o menține mereu tânără. Pe parcursul a cinci capitole veți găsi o mulțime de jocuri, de toate felurile: labirinturi, jocuri de orientare și de găsim a diferențelor, jocuri logice și probleme de matematică distractivă, jocuri de cuvinte, rebusuri, integrale, toate pentru plăcerea voastră. Vă invit să vă jucați și să-nvățați!

Autorul



Semaforul dificultății

Culori ca la semafor:

-  Verde – e un joc ușor,
-  Galben – de rang mijlociu
-  Roșu – mai greu, dar tot știi!

CUPRINS

LUMEA CA UN LABIRINT	4
Jocuri de orientare cu logică și culoare	
AVENTURI ÎN ȚARA MATEMATICII	18
Orice tematică prin matematică	
CELE MAI BUNE SOLUȚII	32
Jocuri pentru copii isteți	
FORȚA CUVINTELOR	38
În orice literă e o poveste	
VREAU SĂ FIU MEREU ÎN FORMĂ	54
Altfel de recapitulare	
RĂSPUNSURI	60

LUMEA CA UN LABIRINT

Jocuri de orientare cu logică și culoare



1

De la o casă la alta



Bun venit! Eu sunt Dănuț și te invit la o plimbare prin cartierul meu. Vizităm mai întâi casa aflată la dreapta mea, pe rândul de jos, apoi pe cea aflată la mijloc, pe rândul de jos. Urmează cea din dreapta mea, iar după ea, cea din mijloc pe rândul de sus. Mergem apoi la cea aflată în stânga mea pe rândul de sus, apoi la casa din stânga mea. Urmează casa din stânga mea pe rândul de jos, iar ultima va fi cea din dreapta mea pe rândul de sus. Dacă pui literele caselor în ordinea vizitării lor, vei afla numele cartierului.



I



E



L



S



I



V




E



E

Cartierul





3

Intrusul de pe pârtie

Privește imaginea cu atenție. Ceva nu se potrivește. Descoperă ce obiect nu-și are locul aici și încercuiește-l.






4

Alege ulcica!



Aceste vase par identice, dar una este ușor diferită. Ai descoperit-o? Încercuiește litera din dreptul ei.



5

Care-i diferită?



Deși toate cele șase imagini de mai jos par la fel, una este ușor diferită. Care este? Încercuiește litera din dreptul ei.



6

În clasă



Ce personaj nu-și are locul în clasă? Scrie-i numele pe spațiul indicat.



R:


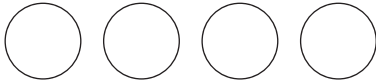
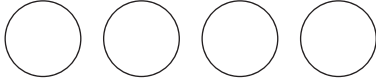
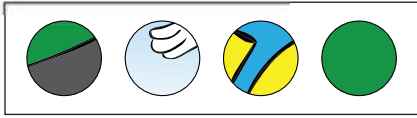


24

Atenție la semafor!



Completează spațiile goale din desen. Ce numere corespund fragmentelor de mai jos? Scrie numărul corect pentru fiecare fragment.

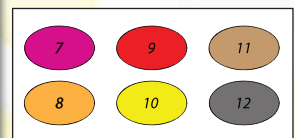
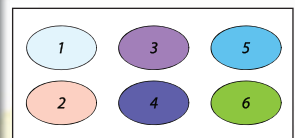
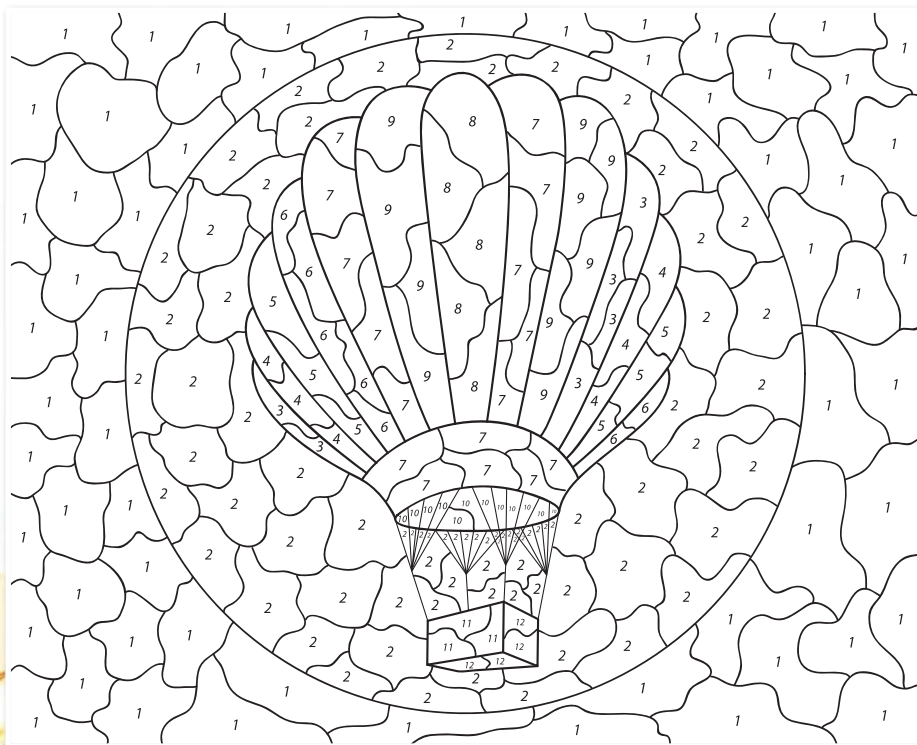


25

Culori vii pentru copii



Colorează după indicații și descoperă ce se ascunde în desen.





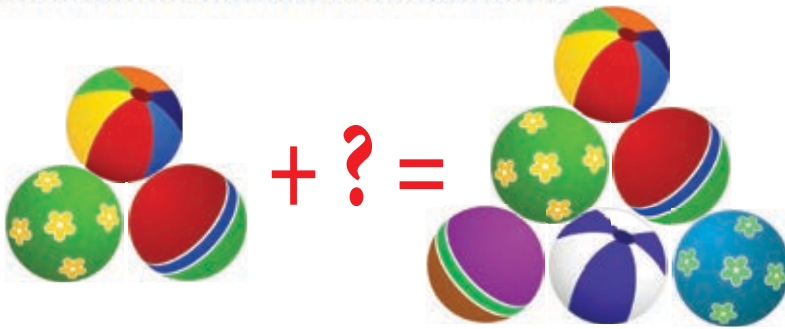
19 Cântărește purcelul

Știind că un sac plin cântărește 50 kg și că din sacul desfăcut s-au luat 15 kg, află cât cântărește purcelul. Scrie operațiile.



20 Jocul mingilor

Încercuiește în imaginea din dreapta mingile care lipsesc pentru ca egalitatea să fie adevărată.



21 Drumul spre prietene

Ajut-o pe Maria să ajungă la prietenele ei.

- Care este drumul corect?
- Colorează traseul Mariei.
- Ce lungime are de parcurs până la cele două prietene?





37

În pas cu timpul

Pune în fiecare casetă din jurul ceasului litera de la exercițiul al cărui rezultat este același cu ora marcată pe ceas. Vei afla numele unor perioade care marchează trecerea timpului.

M $24 : 3 - 10 : 5 =$

E $6 \times 5 - 9 \times 2 =$

I $7 + 2 \times 4 - 5 =$

L $72 : 8 + 6 : 3 =$

R $3 + 2 \times 3 =$

U $48 : 8 + 2 \times 1 =$

I $5 \times 3 \times 2 : 6 =$

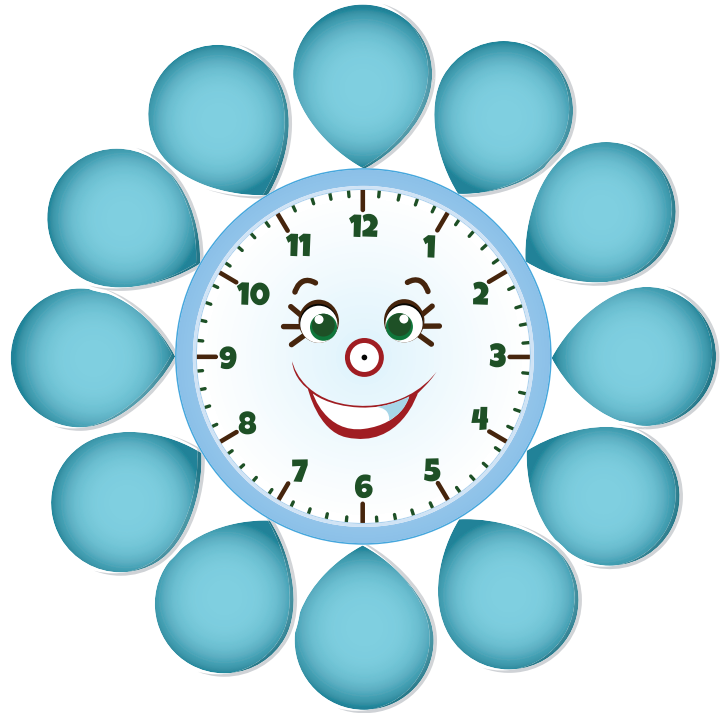
P $12 - 25 : 5 =$

O $36 : 9 - 1 \times 1 =$

T $63 : 7 - 35 : 7 =$

A $100 - 9 \times 9 - 3 \times 6 =$

N $54 : 6 - 3 - 10 : 5 =$



38

Prin vecini

Care este suma vecinilor numărului de pe foaia de hârtie?



- A. 99
- B. 101
- C. 200
- D. 300



39

Panglica

Două bucăți de panglică au împreună 52 de centimetri. Care este lungimea fiecăreia, dacă una are cu 8 cm mai mult decât cealaltă?

R:

40

Sacii cu bucluc

O cantitate de 40 kg de mere a fost pusă în saci de 5 kg și 10 kg, numărul acestora din urmă fiind jumătate din numărul celor de 5 kg. Câți saci au fost în total?

R:

CELE MAI BUNE SOLUȚII

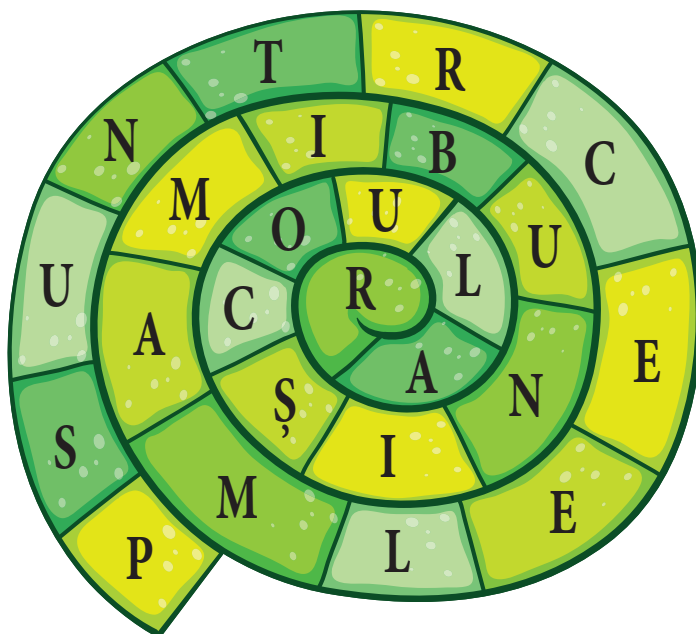
Jocuri pentru copii isteți



1 Spirala cu surprize

Pornind din capătul spiralei, culege în ordine literele pe care le găsești în căsuțele indicate: cea din prima căsuță, sari apoi 5 trepte, apoi 2, apoi 5, iarăși 5 și în cele din urmă 4 trepte. Ce ai obținut?

Literele rămase vor fi citite la rând. Ce ai descoperit?



2 Pe note muzicale

Privește cu atenție imaginea de mai jos. Scrie în casetele de jos numele notelor muzicale și al fructelor (câte o literă în fiecare casetă). Citește apoi ce ai obținut.



3 Litere și cifre



Ce cifră, scrisă cu litere, are aceeași valoare cu numărul literelor sale?

R:



4 Enigmă



Ce fenomen specific iernii au în comun numele următoarelor țări: GERMANIA, ALGERIA, NIGERIA și NIGER?

R: